

070809

ВСЕРОССИЙСКАЯ ОЛИМПИАДА ШКОЛЬНИКОВ ПО ИСТОРИИ  
МУНИЦИПАЛЬНЫЙ ЭТАП  
2021–2022 УЧЕБНЫЙ ГОД

8 КЛАСС

Задание 1. (2 балла)

Какой из перечисленных городов Московской области впервые упоминается в русских летописях раньше, чем Москва? Запишите в поле ответа букву, обозначающую этот город.

- А. Волоколамск
- Б. Дмитров
- ⓑ. Клин
- Г. Руза

05 Ответ: б.

Задание 2. (4 балла)

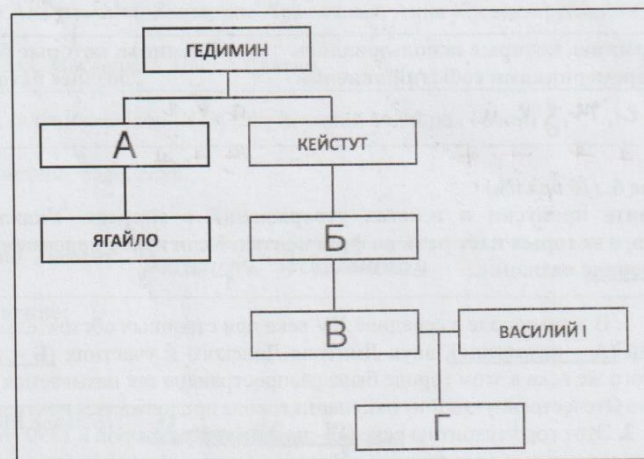
Какие из перечисленных событий относятся к периоду правления Михаила Фёдоровича? Запишите в поле ответа буквы, обозначающие эти события.

- А. Поляновский мир
- Б. Кардисский мир
- ⓑ. Выход первой русской печатной книги
- Г. Начало Соловецкого восстания
- Д. Начало Азовского сидения
- Е. Смерть патриарха Никона
- Ж. Рождение Петра I
- ⓓ. Создание полков «нового строя»

25 Ответ: б, ж, д.

Задание 3. (4 балла)

Заполните пропуски в генеалогической схеме.



Ответ:

А – \_\_\_\_\_ Б – \_\_\_\_\_  
В – \_\_\_\_\_ Г – \_\_\_\_\_

Задание 4. (4 балла)

Перед Вами перечень событий истории Англии. Выберите те из них, которые произошли в XVII веке, и в поле ответа впишите соответствующие буквы.

- А) «Славная революция»  
Б) Заседания «Короткого парламента»  
В) Война Алой и Белой розы  
Г) Учреждение протектората Кромвеля  
Д) Нормандское завоевание Англии
- Е) Реставрация Стюартов  
Ж) Разгром Непобедимой армады  
З. Подписание Великой хартии вольностей  
И. Рождение Уильяма Шекспира  
К. Казнь Марии Стюарт

Ответ: а, в, е, з  
++++

Задание 5. (5 баллов)

Владение исторической терминологией – то, без чего не может обойтись ни один историк. Ниже даны термины, которыми принято обозначать ряд событий/явлений отечественной истории. Определите, какие из этих терминов использовались современниками соответствующих событий/явлений, а какие были придуманы исследователями. Распределите соответствующие буквы по столбцам таблицы ответа.

- А. «Эпоха дворцовых переворотов»  
Б. «Феодальная война»  
В. «Избранная рада»  
Г. «Нарышкинское барокко»  
Д. «Тушинский вор»
- Е. «Поход за зипунами»  
Ж. «Фряжское письмо»  
З. «Полки нового строя»  
И. «Белые клобуки»  
К. «Нарвская конфузия»

Ответ:

Термины, которые использовались современниками событий/явлений	Термины, которые были придуманы позднее историками
<u>в, г, е, ж, з, к, и.</u> +++++	<u>а, б, з</u> +++

Задание 6. (10 баллов)

Заполните пропуски в текстах утверждений о городах. Укажите названия всех городов, о которых идёт речь во фрагментах. Если город переименовывался, укажите современное название.

- В этом городе в середине XV века при странных обстоятельствах ушёл из жизни Дмитрий (А – прозвище), внук Дмитрия Донского и участник (Б – название) войны. В конце того же века в этом городе была распространена так называемая ересь (В – кого?). В Великую Отечественную войну оккупация города продолжалась почти два с половиной года.
- Этот город стоит на реке (Г – название), у которой в 1399 году произошла битва между литовскими и ордынскими войсками. Неподалёку от этого города в (Д – год) году произошло сражение, переломившее ход Северной войны.
- Город был основан во второй половине XVI века на берегу реки (Е – название). В 1670 году его сумели захватить отряды Разина, а в 1774 году – безуспешно штурмовали

070209

войска Пугачёва. В годы Великой Отечественной войны город назывался (**Ж – название**).  
С этим названием была связана одна из ключевых битв Великой Отечественной войны.

Ответ:

Пропуски (слова можно писать в любом падеже):

А	
Б	
В	
Г	(Учре) Днепре
Д	1709г. +
Е	Нева -
Ж	

15

Названия городов:

1	2	3
Санкт-Петербург	Рязань	Курск Новгород

Задание 7. (12 баллов)

Перед Вами четыре ряда, в каждом из которых перечислено четыре элемента. Выберите лишний элемент в каждом ряду и кратко объясните, почему он не подходит к остальным.

- 7.1. Алиенора Аквитанская; Екатерина Арагонская; Анна Клевская; Джейн Сеймур.
- 7.2. Иван Купала, Масленица, Пасха, Святки.
- 7.3. Михаил Стадучин; Фёдор Шелудяк; Василий Ус; Фрол Разин.
- 7.4. Борода, кистень, рало, соха.

Ответ:

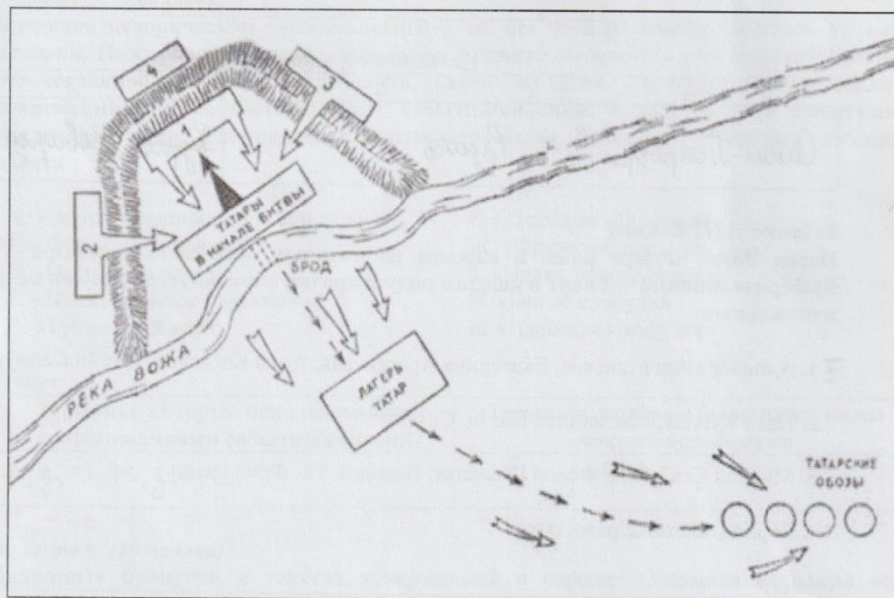
25

7.1.	Лишний элемент: Алиенора Аквитанская + Объяснение:
7.2.	Лишний элемент: Святки Иван Купала Объяснение: Потому что все остальные праздники отмечаются весной.

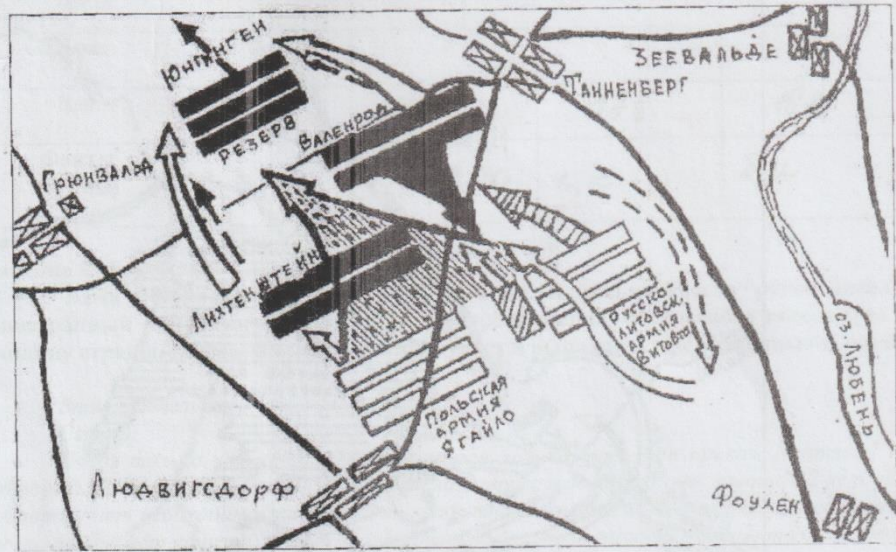
7.3.	Лишний элемент: <i>Василий Г</i>
	Объяснение:
7.4.	Лишний элемент: <i>Кистень</i> <i>†</i>
	Объяснение:

Задание 8. (12 баллов)

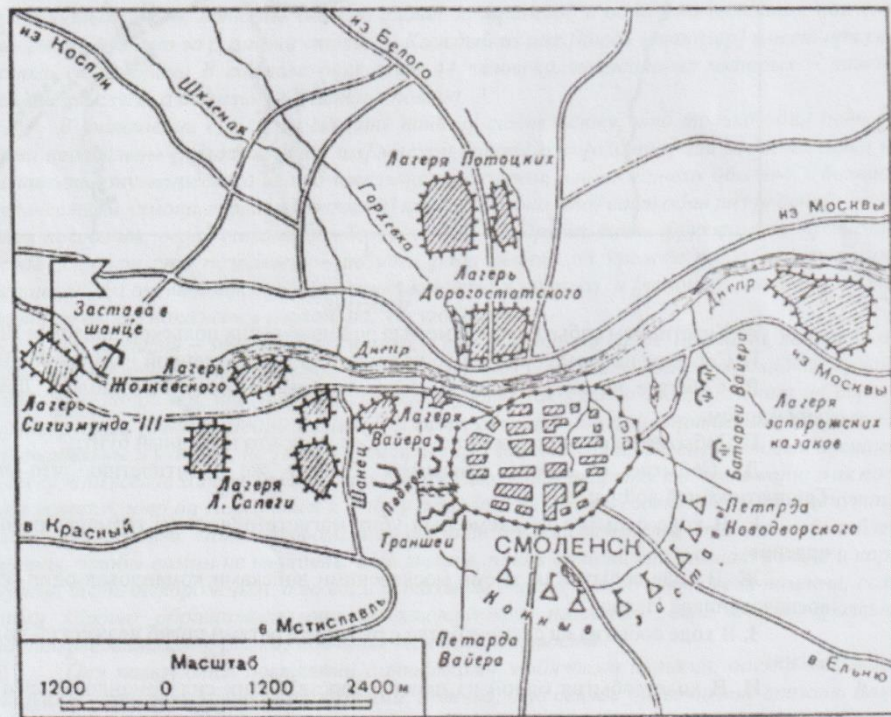
Перед Вами схемы четырёх эпизодов отечественной военной истории. Укажите век, в котором произошло каждое из показанных на схемах событий. Ниже дан перечень фактов, каждый из которых соответствует одному из этих событий. Распределите факты по событиям.



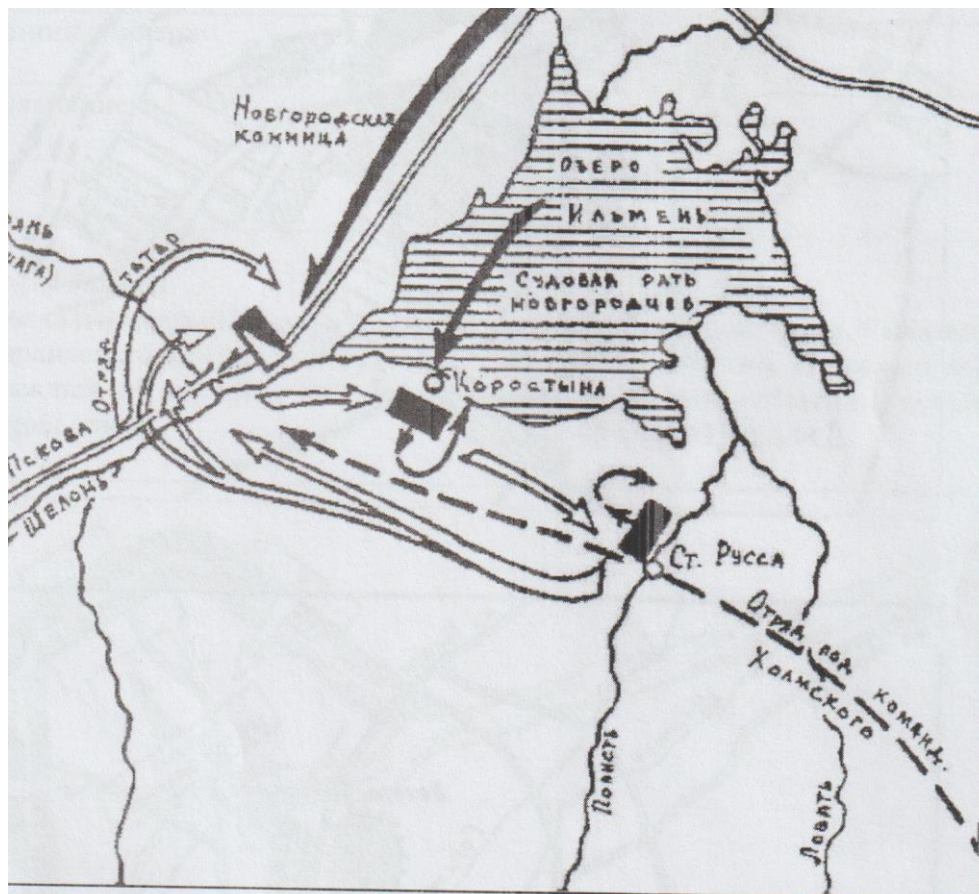
040809



2



3



4

**Факты:**

- Участником события на схеме был родоначальник польской династии Ягеллонов;
- Событие на схеме произошло на территории современной Рязанской области;
- Событие на схеме было эпизодом войны, которая завершилась Деулинским миром;
- Событие на схеме произошло в том же веке, что и Медный бунт;
- Событие на схеме относится к тому же десятилетию, что и начало Столетней войны;
- В ходе события на схеме был убит магистр одного из германских рыцарских орденов;
- В ходе события на схеме московскими войсками командовал один из лучших полководцев Ивана III;
- В ходе события на схеме в битве с русскими ратями погиб вражеский полководец;
- В ходе события одной из противоборствующих сил командовал сын Марфы-

070209

Ответ:

Схема	1	2	3	4
Век	14в. +	15в. +	17в. +	16в. -
Факты (буквы)	с, д	<sup>а</sup> а, в, г, пс +	е, к +	б, и

50

**Задание 9. (9 баллов)**

Перед Вами исторический источник XVII века. В письме своему руководителю иностранный чиновник отчитывается о сопровождении московского посольства в столицу страны. Внимательно прочитайте текст и выполните предложенные задания.

Ваше сиятельство.

Сеньор:

Посол только что прибыл в этот город, а я получил Ваш приказ, [в ответ] на который, сеньор, я Вам сообщаю, что посла сопровождает его сын, юноша 22 лет, для которого нет необходимости отводить отдельное помещение. В качестве заместителя посла прибывает канцлер, которого сопровождает столь пыльная свита, что он [в этом отношении] мало отличается [от посла]. Пусть Ваше сиятельство прикажет определить ему соседнюю [с послом] комнату. В состав этих двух свит входят 16 благородных людей, которые обычно сидят за трапезой в одном помещении с послом и канцлером, однако за разными столами. Каждый из них [посол и канцлер] имеет при себе одного священника. В составе двух свит 44 человека, половина из которых – пажи и домашние слуги, а остальные – лакеи и повара.

В отношении еды могу сказать вашему сиятельству, что только один день они были недовольны [предложенной им] мясной пищей; они [охотно] ели жареное мясо по-испански, а тушеное мясо или по-итальянски, с сыром, или по нашему обычаю, с большим количеством лимона, хамон и [говяжий] язык. Но [пока что] едят один раз [в день] и много дней постятся, ограничиваясь хлебом и водой, а в другие дни – фруктами и травами, а когда их пост это позволяет – разного рода рыбой, но прежде всего – фруктами и овощами. Им очень понравятся цветная капуста и спаржа, и [вообще]... нет такой еды, которая бы им показалась плохой, раз ею угощают.

Их напитки – это мистела и пиво, а также что-то вроде лимонада, который они готовят на основе ингредиентов из своей страны. Им очень нравится сладкое красное вино, как, например, красное вино из Эль Пуэрто [де Санта Мария], и они не станут пренебрегать [вином] Педро Хименес. В своих обычаях они осмотрительны, сдержанны, внимательны и учтивы, но [также им присущи] заметное тщеславие, любовь к внешнему блеску; они всегда хотят, чтобы у них были великолепные кареты и добрые кони; и их посол мне говорил, что он стремится к этому только ради чести своего государя и репутации своего посольства. Одним словом, могу сказать Вашей светлости, что они любят блеск, но так, чтобы самим не платить. Мое мнение, что в отношении комнат в доме и карет нужно быть осторожным, а во всём остальном с ними нужно вести себя помягче; если с ними хорошо обращаться, они довольствуются немногим; если в них проявлять заинтересованность, [легко] подчиняются необходимости.

Они пользуются постелями с тюфяками, набитыми перьями, одеяла меховые, а подушки – атласные, и тоже с перьями. Вот то, что сейчас уместно мне сказать Вашей милости, и прошу меня извинить, что на этом заканчиваю, ибо нахожусь с той самой персоной, которой обязан тем, что пишу Вам: отвечаю на вопросы посла, соответствуя запросам каждого из вас.

Господь наш да хранит Вашу светлость, чего я Вам желаю. В Толедо. Сегодня воскресенье, в семь вечера.

Припадаю к ногам Вашей светлости.

[Подпись Бенито де Дуо]

Светлейшему сеньору маркизу Айтоне, моему сеньору.

Назовите страну, в которую прибыло московское посольство.

Ответ: Франция (Англия) -

Приведите две позиции из текста, на основе которых можно сделать вывод о религиозности московитов. Можно как процитировать текст, так и сформулировать позицию самостоятельно.

Ответ:

Каждый из них имеет при себе одного священника  
Много дней постится 2

Укажите три положительных, с точки зрения автора, черты характера и/или поведения московских гостей, отмеченных в тексте.

Ответ:

добросовестны немалыми  
сдержаны и осмотрительны в своих обрядах  
надежны и наблюдательны 7

56

Укажите две отрицательных, с точки зрения автора, черты характера и/или поведения московских гостей, отмеченных в тексте.

Ответ:

замысловатое, любовь к внешнему блеску, но так чтобы  
самим не платить. 2



670209

**Задание 10. (10 баллов)**

Перед Вами фрагменты стихотворения Алексея Константиновича Толстого, посвящённого одному из важных эпизодов отечественной истории. В тексте пропущены десять имён собственных. Назовите пропущенные слова (в любом падеже).

«Добро, – сказал князь, когда выслушал он  
Улики царьградского мниха, –  
Тобою, отец, я теперь убеждён,  
Виновен, что мужем был столькок я жён,  
Что жил и беспутно и лихо.

Что богом мне был то Перун, то (1 – имя бога),  
Что силою взял я (2 – имя),  
Досель надо мною, знать, тешился бес,  
Но мрак ты рассеял, и я в (3 – город)  
Креститься, в раскаянье, еду!»

Царьградский философ и мних тому рад,  
Что хочет (4 – имя) креститься;  
«Смотри ж, – говорит, – для небесных наград,  
Чтоб в райский, по смерти, войти вертоград,  
Ты должен душою смириться!»

[...]

То правда ль, я слышал, замкнули (5 – против)  
Дружины какого-то (6 – имя)?»  
«Воистину правда!» – отвечает двор.  
«Но кто ж этот (6)?» – «Мятежник и вор!»  
«Отделать его на все боки!»

Отделали русские (6) как раз:

Цари (7 – имя) и (8 – имя)

По целой империи пишут приказ:

«(4)-де нас от погибели спас –  
Его чтоб все люди честили!»

[...]

Великое слово корсунцам храня,  
Князь не взял с них денег повинных,  
Но город поднёс ему, в честь того дня,  
Из бронзы коринфской четыре коня  
И статуй немало старинных.

И кони, и белые статуи тут,  
Над поездом выся громаду,  
Стоймя на лабях, неподвижны, плывут,  
И волны (9 – река) их, дивуясь, несут  
Ко стольному (10 – город)-граду».

**Ответ:**

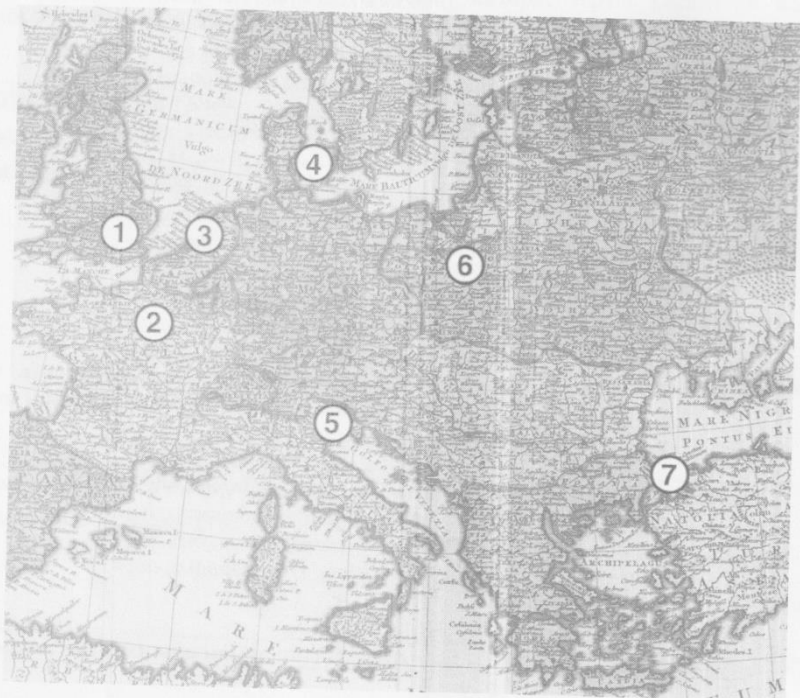
Номер в тексте	Слово (в оригинальном или именительном падеже)
1	Зевс

2	Маршо
3	Херсонес +
4	Владимир +
5	
6	
7	Москов -
8	Мстислав. -
9	Днепра +
10	Киев +

46

Задание 11. (10 баллов)

Перед Вами письма братьев Демидовых, юных сыновей известного предпринимателя, в середине XVIII века путешествовавших по Европе. В письмах рассказывается о крупных европейских городах. Укажите, о каком из них идёт речь в каждом отрывке, и соотнесите города с точками на карте. Выберите из перечня известных деятелей, чьи портреты приведены в конце задания, жителей этих городов.



А. «Город [...] велик и строения по большой части хорошаго, а особливо место Амалиенбург и некой блиско от онаго улицы изрядными палатами построены. Там считаются до 120 000 душ. Он хорошо для комерций лежит, кои всех болше делается в Ост-Индию, а кроме онаго не очень велик. Ситуация сего города не очень красива, а воздух, как же и вода, нездоровы»;

Б. «Он, причисляя все его слободы, чрезмерно велик и красиваго строения. Улицы, хотя по большой части не очень широки, но много из оных весьма длинных. Река Сенне протекает сквозь город и тако поделано несколько каменных и огромных мостов чрез оную, а на некоторых поставлены по обем сторонам моста дома, так что кажутся совершенною улицею. [...] Живущих в нём считается до миллиона душ, но сие невероятно»;

В. «Улицы нечисты и дома по большой части в городе, то есть в City, не очень красивы, ибо черноваты и нечисты снаружи выглядят. [...] ...потом смотрели славную церкву Westminster Abbey, которая очень стара, велика и предрага для безчисленном множестве маузолеов...»;

Г. «Город нарочито велик и строения весьма красиваго и веселаго. Дома все кирпичные и почти все снаружи малеваны красками и для того почти все, как новые выглядеть, улицы весьма чисты. Каналов здесь также множество, но они нешироки и нечисты, а променадов довольно изрядных находятся в городе, а особливо за городом»;

Д. «Сей город отчасти с хорошими и болшими и отчасти малинками и худыми домами на 60 до 70 островах построен. [...] Все каналы почти, выключая только il Canale Maggiore, уски, нерегулярны и по обем сторонам дома стоят по большой части старые и малые. [...] Il Canale Maggiore, или Велики канал, в равной ширине имеет длины 1300 шагов, а ширины в самом уском месте 40 шагов».



I  
(писатель)



II  
(путешественник)



III  
(учёный)



IV  
(философ)



V  
(художник)

Ответ:

Фрагмент	Город	Место на карте (араб. цифра)	Портрет жителя (рим. цифра)
А		3.	I
Б	Париж +	2 +	III +
В	Лондон +	1 +	IV +
Г	Амстердам +	4 -	V +

Д	Венеция +	5 +	II +
---	-----------	-----	------

**Задание 12. (6 баллов)**

Перед Вами отрывки из учебника авторства известного советского историка с описаниями ряда исторических событий. Соотнесите каждый фрагмент с иллюстрацией описываемого в нём события. Обратите внимание – две иллюстрации являются лишними.

1. «...Простому народу выставили всё дело как восстание против иностранцев, против поляков, которые хотят будто бы поработить Россию, а на самом деле воспользовались восстанием для того, чтобы убить царя, который шёл против интересов богатых помещиков и капиталистов»;

2. «Никто из церковных людей и не подумал даже встать на защиту Никона, и оказалось, что какого-нибудь настоящего сопротивления власти царя никто оказать не мог. А царь, пользуясь своими торговыми связями и денежными средствами, без труда нанял других патриархов, восточных, которые в православной церкви были старше Никона, созвал церковный собор и решением самой церкви осудил человека, который осмелился поддерживать самостоятельность этой церкви против царя»;

3. «...Шведская армия была разбита так же основательно, как за девять лет перед этим московская армия под Нарвой. Роли совершенно переменялись. Из обороняющейся Москва превратилась в наступающую»;

4. «В Тушино переехал на жительство и сам второй Димитрий. Около него образовался целый двор наподобие московского двора. В Тушине возникла как бы вторая столица, и выбить оттуда казаков и их польские отряды Шуйский уже оказался не в силах»;

5. «...Медные деньги, которых вдобавок начеканили бесчисленное количество, стали быстро падать в цене, а все товары стали дорожать. Это опять вызвало народное возмущение, но романовское правительство оказалось достаточно сильным, чтобы и с ним справиться»;

6. «...После целого ряда войн Москва справилась с Новгородом, московский великий князь подчинил себе северные торговые центры (кроме Новгорода, крупное торговое значение приобрёл его «пригород» Псков), сделался там таким же хозяином, как и на берегах Москва-реки...».



А




Б


070109




В



Г



Д



Е



Ж



З

Ответ:

65

Отрывок	1	2	3	4	5	6
Изображение (буква)	б +	в +	а +	жз +	г +	н +

Задание 13. (12 баллов)

Перед Вами портреты ряда российских царей и императоров и фотографии мест, где покоятся их останки. Укажите названия этих мест и соотнесите с ними портреты правителей, которые в них захоронены. Обратите внимание – под местом захоронения подразумевается не город, а конкретное сооружение или архитектурный комплекс.



А




Б



В



Г



Д



Е


Места захоронения:



1



2



3

Ответ:

Фото места	Название места	Правители (буквы)
1		а, б, е.
2		г
3	Сергиева Лавра	в, г +

35

Итого: 435  
 Проверил: *Митуринский В.И.*  
*Виль Мищенко А.В.*