

070822

ВСЕРОССИЙСКАЯ ОЛИМПИАДА ШКОЛЬНИКОВ ПО ИСТОРИИ
МУНИЦИПАЛЬНЫЙ ЭТАП
2021–2022 УЧЕБНЫЙ ГОД

8 КЛАСС

Задание 1. (2 балла)

Какой из перечисленных городов Московской области впервые упоминается в русских летописях раньше, чем Москва? Запишите в поле ответа букву, обозначающую этот город.

- А. Волоколамск
- Б. Дмитров
- В. Клин
- Г. Руза

25 Ответ: А +

Задание 2. (4 балла)

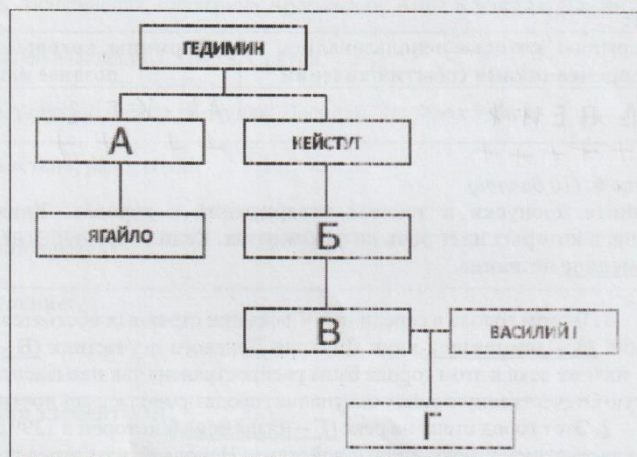
Какие из перечисленных событий относятся к периоду правления Михаила Фёдоровича? Запишите в поле ответа буквы, обозначающие эти события.

- А. Поляновский мир
- Б. Кардисский мир
- В. Выход первой русской печатной книги
- Г. Начало Соловецкого восстания
- Д. Начало Азовского сидения
- Е. Смерть патриарха Никона
- Ж. Рождение Петра I
- З. Создание полков «нового строя»

25 05 Ответ: ЕЖД

Задание 3. (4 балла)

Заполните пропуски в генеалогической схеме.



Ответ:

А - _____ Б - _____
В - _____ Г - _____

Задание 4. (4 балла)

Перед Вами перечень событий истории Англии. Выберите те из них, которые произошли в XVII веке, и в поле ответа впишите соответствующие буквы.

- А. «Славная революция»
Б. Заседания «Короткого парламента»
В. Война Алой и Белой розы
Г. Учреждение протектората Кромвеля
Д. Нормандское завоевание Англии
Е. Реставрация Стюартов
Ж. Разгром Непобедимой армады
З. Подписание Великой хартии вольностей
И. Рождение Уильяма Шекспира
К. Казнь Марии Стюарт

Ответ: ХЖЗИБ

Задание 5. (5 баллов)

Владение исторической терминологией – то, без чего не может обойтись ни один историк. Ниже даны термины, которыми принято обозначать ряд событий/явлений отечественной истории. Определите, какие из этих терминов использовались современниками соответствующих событий/явлений, а какие были придуманы исследователями. Распределите соответствующие буквы по столбцам таблицы ответа.

- А. «Эпоха дворцовых переворотов»
Б. «Феодальная война»
В. «Избранная рада»
Г. «Нарышкинское барокко»
Д. «Тушинский вор»
Е. «Поход за зипунами»
Ж. «Фряжское письмо»
З. «Полки нового строя»
И. «Белые клобуки»
К. «Нарвская конфузия»

Ответ:

Термины, которые использовались современниками событий/явлений	Термины, которые были придуманы позднее историками
<u>В Д Е И Ж</u> ++++	<u>А Б К Г З</u> ++++

Задание 6. (10 баллов)

Заполните пропуски в текстах утверждений о городах. Укажите названия всех городов, о которых идёт речь во фрагментах. Если город переименовывался, укажите современное название.

1. В этом городе в середине XV века при странных обстоятельствах ушёл из жизни Дмитрий (А - прозвище), внук Дмитрия Донского и участник (Б - название) войны. В конце того же века в этом городе была распространена так называемая ересь (В - кого?). В Великую Отечественную войну оккупация города продолжалась почти два с половиной года.

2. Этот город стоит на реке (Г - название), у которой в 1399 году произошла битва между литовскими и ордынскими войсками. Неподалёку от этого города в (Д - год) году произошло сражение, переломившее ход Северной войны.

3. Город был основан во второй половине XVI века на берегу реки (Е - название). В 1670 году его сумели захватить отряды Разина, а в 1774 году – безуспешно штурмовали

070112

войска Пугачёва. В годы Великой Отечественной войны город назывался (Ж -- название)
С этим названием была связана одна из ключевых битв Великой Отечественной войны.

Ответ:

Пропуски (слова можно писать в любом падеже):

А	
Б	
В	
Г	Крaсивкa -
Д	
Е	
Ж	Стaлиa Лeнiнгрaд +

Названия городов:

1	2	3
Санкт-Петербург -		Санкт-Петербург -

10

Задание 7. (12 баллов)

Перед Вами четыре ряда, в каждом из которых перечислено четыре элемента. Выберите лишний элемент в каждом ряду и кратко объясните, почему он не подходит к остальным.

- 7.1. Алиенора Аквитанская; Екатерина Арагонская; Анна Клевская; Джейн Сеймур.
- 7.2. Иван Купала, Масленица, Пасха, Святки.
- 7.3. Михаил Стадучин; Фёдор Шелудяк; Василий Ус; Фрол Разин.
- 7.4. Борона, кистень, рало, соха.

Ответ:

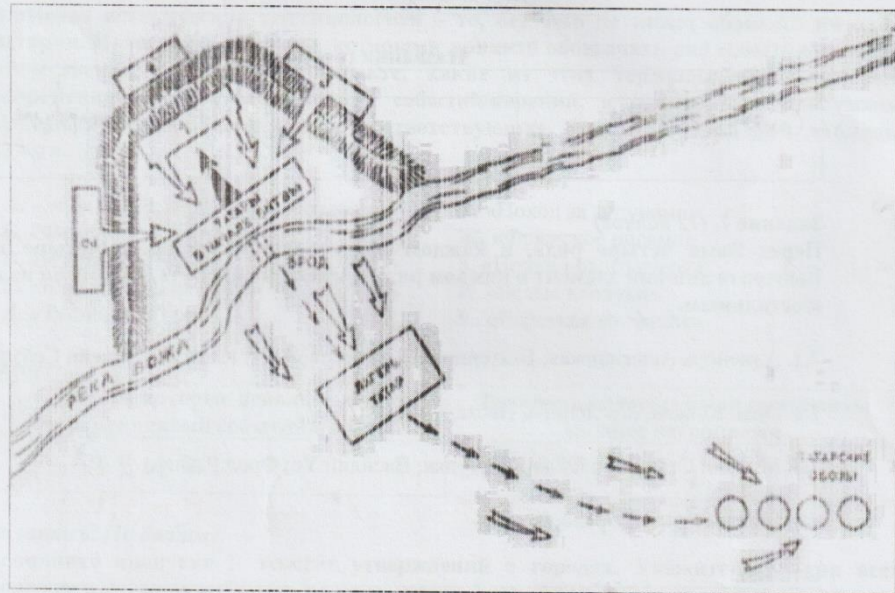
7.1.	Лишний элемент:
	Объяснение:
7.2.	Лишний элемент: Пасха
	Объяснение: Т.к. это самый религиозный праздник. Он более значимый.

85

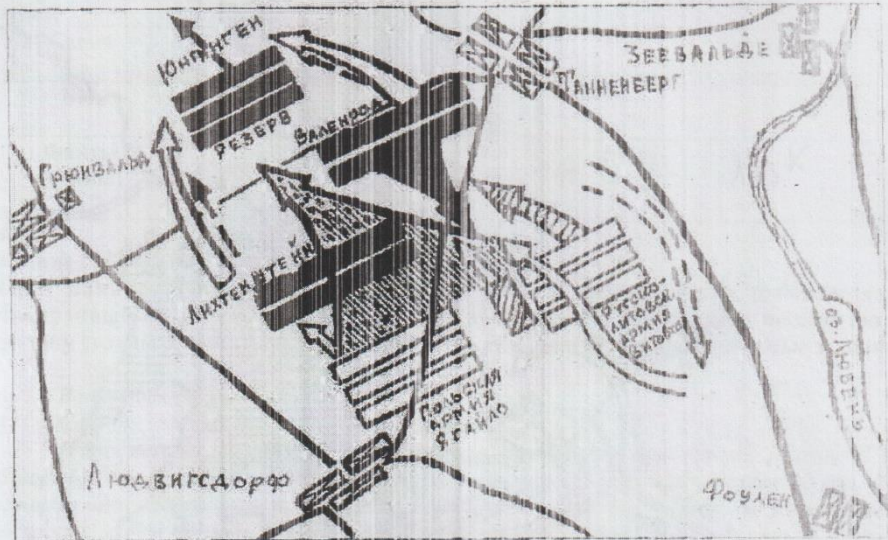
7.3.	Лишний элемент:
	Объяснение:
7.4.	Лишний элемент: <i>Римень</i>
	Объяснение: <i>Т.к. он не относится к земледелию.</i>

Задание 8. (12 баллов)

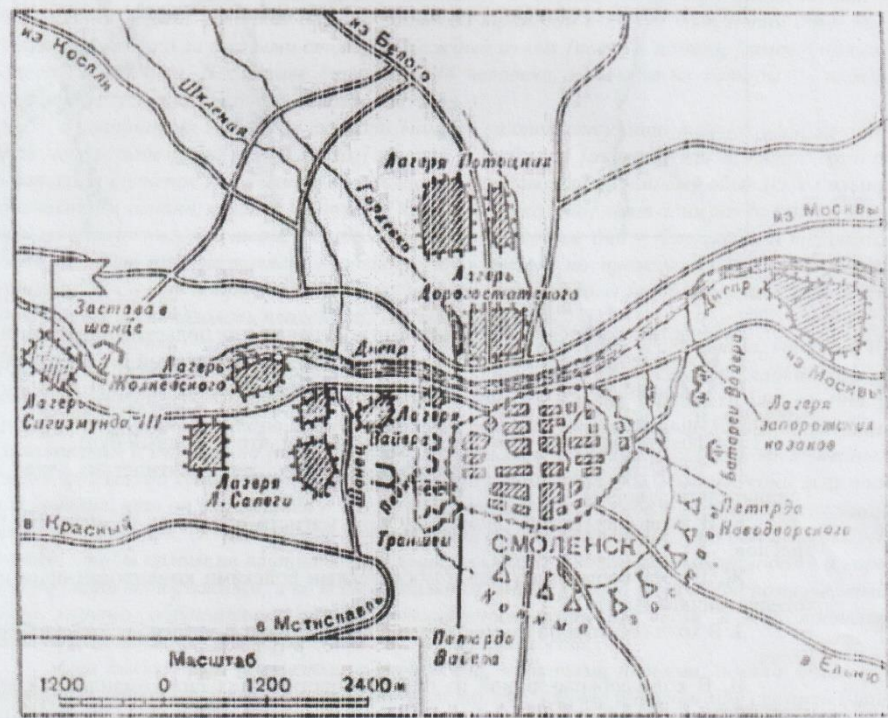
Перед Вами схемы четырёх эпизодов отечественной военной истории. Укажите век, в котором произошло каждое из показанных на схемах событий. Ниже дан перечень фактов, каждый из которых соответствует одному из этих событий. Распределите факты по событиям.



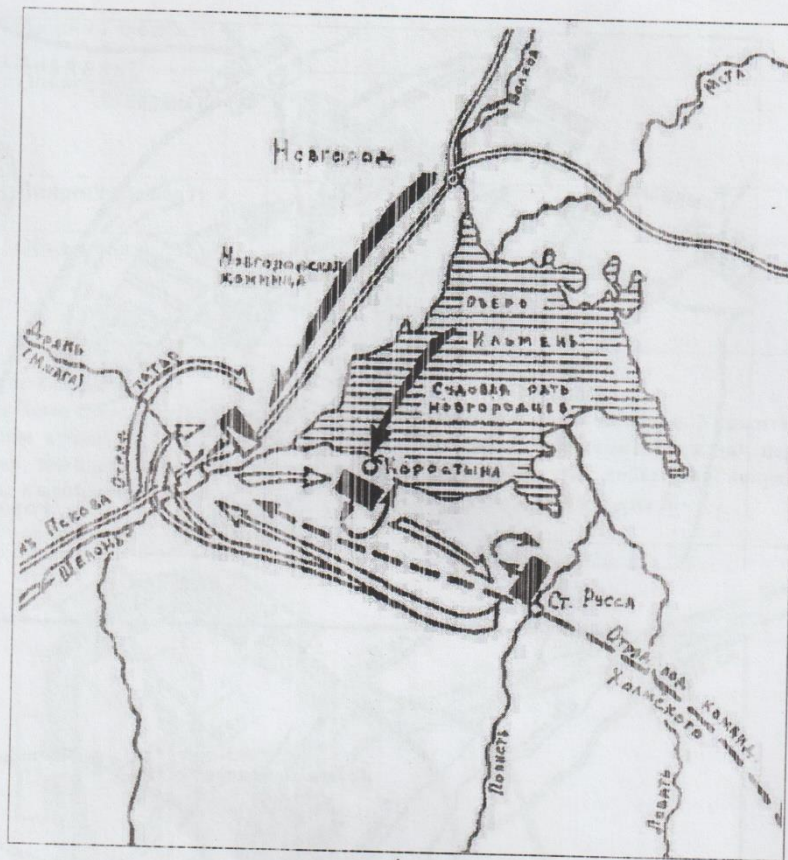
0708L



2



3



Факты:

- А. Участником события на схеме был родоначальник польской династии Ягеллонов;
- Б. Событие на схеме произошло на территории современной Рязанской области;
- В. Событие на схеме было эпизодом войны, которая завершилась Деулинским перемирием;
- Г. Событие на схеме произошло в том же веке, что и Медный бунт;
- Д. Событие на схеме относится к тому же десятилетию, что и начало Тридцатилетней войны.
- Е. В ходе события на схеме был убит магистр одного из германских рыцарских орденов;
- Ж. В ходе события на схеме московскими войсками командовал один из лучших военачальников Ивана III;
- З. В ходе события на схеме в битве с русскими ратями погиб вражеский полководец Бегич;
- И. В ходе события одной из противоборствующих сил командовал сын Марфы-посадницы;
- К. Событие произошло после разграбления Москвы Тохтамышем, но до начала княжения Василия II в Москве.

010812

Ответ:

Схема	1	2	3	4
Век				
Факты (буквы)	ГЗ	АВ	ДЕИ	ЖБК

об

Задание 9. (9 баллов)

Перед Вами исторический источник XVII века. В письме своему руководителю иностранный чиновник отчитывается о сопровождении московского посольства в столицу страны. Внимательно прочитайте текст и выполните предложенные задания.

Ваше сиятельство.

Сеньор:

Посол только что прибыл в этот город, а я получил Ваш приказ, [в ответ] на который, сеньор, я Вам сообщаю, что посла сопровождает его сын, юноша 22 лет, для которого нет необходимости отводить отдельное помещение. В качестве заместителя посла прибывает канцлер, которого сопровождает столь пышная свита, что он [в этом отношении] мало отличается [от посла]. Пусть Ваше сиятельство прикажет определить ему соседнюю [с послом] комнату. В состав этих двух свит входят 16 благородных людей, которые обычно сидят за трапезой в одном помещении с послом и канцлером, однако за разными столами. Каждый из них [посол и канцлер] имеет при себе одного священника. В составе двух свит 44 человека, половина из которых – важи и домашние слуги, а остальные – лакеи и повара.

В отношении еды могу сказать вашему сиятельству, что только один день они были недовольны [предложенной им] мясной пищей; они [охотно] ели жареное мясо по-испански, а тушеное мясо или по-итальянски, с сыром, или по нашему обычаю, с большим количеством лимона, хамон и [говяжий] язык. Но [пока что] едят один раз [в день] и много дней постятся, ограничиваясь хлебом и водой, а в другие дни – фруктами и травами, а когда их пост это позволяет – разного рода рыбой, но прежде всего – фруктами и овощами. Им очень понравятся цветная капуста и спаржа, и [вообще]... нет такой еды, которая бы им показалась плохой, раз ею угощают.

Их напитки – это мистела и пиво, а также что-то вроде лимонада, который они готовят на основе ингредиентов из своей страны. Им очень нравится сладкое красное вино, как, например, красное вино из Эль Пуэрто [де Санта Мариа], и они не станут пренебрегать [вином] Педро Хименес. В своих обычаях они осмотрительны, сдержанны, внимательны и учтивы, но [также им присущи] заметное тщеславие, любовь к внешнему блеску; они всегда хотят, чтобы у них были великолепные кареты и добрые кони; и их посол мне говорил, что он стремится к этому только ради чести своего государя и репутации своего посольства. Одним словом, могу сказать Вашей светлости, что они любят блеск, но так, чтобы самим не платить. Мое мнение, что в отношении комнат в доме и карет нужно быть осторожным, а во всем остальном с ними нужно вести себя мягче; если с ними хорошо обращаться, они довольствуются немногим; если в них проявлять заинтересованность, [легко] подчиняются необходимости.

Они пользуются постелями с тюфяками, набитыми перьями, одеяла меховые, а подушки – атласные, и тоже с перьями. Вот то, что сейчас уместно мне сказать Вашей милости, и прошу меня извинить, что на этом заканчиваю, ибо нахожусь с той самой персоной, которой обязан тем, что пишу Вам: отвечаю на вопросы посла, соответствуя запросам каждого из вас.

Господь наш да хранит Вашу светлость, чего я Вам желаю. В Толедо. Сегодня, в воскресенье, в семь вечера.

Припадаю к ногам Вашей светлости.

[Подпись Бенито де Дуо]

Светлейшему сеньору маркизу Айтоне, моему сеньору.

Назовите страну, в которую прибыло московское посольство.

Ответ: Испания ¹

Приведите две позиции из текста, на основе которых можно сделать вывод о религиозности москвитов. Можно как процитировать текст, так и сформулировать позицию самостоятельно.

Ответ:

Разный из них [пока и канцлер] имеет при себе одного священника.

Но [пока тот] едет один раз [в день] и много дней постится, ~~что ограничиваясь хлебом и водой...~~ ²

Укажите три положительных, с точки зрения автора, черты характера и/или поведения московских гостей, отмеченных в тексте.

Ответ:

В своем обычае они осмотрительны, сдержанны, внимательны и учтивы.

...они довольствуются нешью, если в них преобладает заинтересованность.

...что только один день они были недовольны месячной тучей? ... Нет ²
такой еды, которая им бы показалась плохой, раз ей угощают.

Укажите две отрицательных, с точки зрения автора, черты характера и/или поведения московских гостей, отмеченных в тексте.

Ответ:

...но [так же и прищип] заметно тучелавие, любовь к внешнему блеску.

...Канцлер, которого сопровождает столь пышная свита, что он [в этом отношении] мало отличается [от посла] ²

85

Задание 10. (10 баллов)

Перед Вами фрагменты стихотворения Алексея Константиновича Толстого, посвящённого одному из важных эпизодов отечественной истории. В тексте пропущены десять имён собственных. Назовите пропущенные слова (в любом падеже).

«Добро, – сказал князь, когда выслушал он
Улики царьградского мниха, --
Тобою, отец, я теперь убеждён,
Виновен, что мужем был столькок я жён,
Что жил и беспутно и лихо.

Что богом мне был то Перун, то (1 – имя бога),
Что силою взял я (2 – имя),
Досель надо мною, зная, тешился бес,
Но мрак ты рассеял, и я в (3 – город)
Креститься, в раскаянье, еду!»

Царьградский философ и мних тому рад,
Что хочет (4 – имя) креститься,
«Смотри ж, – говорит, – для небесных наград,
Чтоб в райский, по смерти, войти вертоград,
Ты должен душою смириться!»
[...]

То правда ль, я слышал, замкнули (5 – пролив)
Дружины какого-то (6 – имя)?»
«Воистину правда!» – отвечает двор.
«Но кто ж этот (6)?» – «Мятежник и вор!»
«Отделать его на все боки!»

Отделали русские (6) как раз:
Цари (7 – имя) и (8 – имя)
По целой империи пишут приказ:
«(4)-де нас от погибели спас --
Его чтоб все люди честили!»
[...]

Великое слово корсунцам храня,
Князь не взял с них денег повинных,
Но город поднёс ему, в честь того дня,
Из бронзы коринфской четыре коня
И статуй немало старинных.

И кони, и белые статуи тул,
Над поездом выся громаду,
Стоймя на ладьях, неподвижны, плывут,
И волны (9 – река) их, дивуясь, несут
Ко стольному (10 – город)-граду».

Ответ:


Номер в тексте	Слово (в оригинальном или именительном падеже)
1	Венец +

2	
3	Царьград
4	Владимир +
5	Босфор +
6	Рим +
7	
8	
9	Дона
10	Киев +

55

Задание 11. (10 баллов)

Перед Вами письма братьев Демидовых, юных сыновей известного предпринимателя, в середине XVIII века путешествовавших по Европе. В письмах рассказывается о крупных европейских городах. Укажите, о каком из них идёт речь в каждом отрывке, и соотнесите города с точками на карте. Выберите из перечня известных деятелей, чьи портреты приведены в конце задания, жителей этих городов.



А. «Город [...] велик и строения по большой части хорошаго, а особливо место Амалиенбург и некой близко от онаго улицы изрядными палатами построены. Там считаются до 120 000 душ. Он хорошо для комерций лежит, кои всех болше делается в Ост-Индию, а кроме онаго не очень велик. Ситуация сего города не очень красива, а воздух, как же и вода, нездоровь»;

Б. «Он, причисляя все его слободы, чрезмерно велик и красиваго строения. Улицы, хотя по большой части не очень широки, но много из оных весьма длинных. Река Сенга протекает сквозь город и тако поделано несколько каменных и огромных мостов чрез оную, а на некоторых поставлены по обем сторонам моста дома, так что кажутся совершенною улицею. [...] Живущих в нём считается до милисна душ, но сие невероятно»;

В. «Улицы нечисты и дома по большой части в городе, то есть в City, не очень красивы, либо черноты и нечисты снаружи выглядят. [...] ...потом смотрели славную церкву Westminster Abbey, которая очень стара, велика и предрага для безчисленном множестве маузолеов...»;

Г. «Город нарочито велик и строения весьма красиваго и веселаго. Дома все кирпичные и почти все снаружи малеваны красками и для того почти все, как новые выглядять, улицы весьма чисты. Каналов здесь также множество, но они нешироки и нечисты, а променадов довольно изрядных находятся в городе, а особливо за городом»;

Д. «Сей город отчасти с хорошими и болшими и отчасти малинками и худыми домами на 60 до 70 островах построен. [...] Все каналы почти, выключая только il Canale Maggiore, уски, нерегулярны и по обеим сторснам дома стоят по большой части старье и малые. [...] Il Canale Maggiore, или Велики канал, в равной ширине имеет длины 1300 шагов, а ширины в самом ускум месте 40 шагов».



I
(писатель)



II
(путешественник)



III
(учёный)



IV
(философ)



V
(художник)

Ответ:

Фрагмент	Город	Место на карте (араб. цифра)	Портрет жителя (рим. цифра)
А	Копенгаген	4 +	I +
Б	Париж	2 +	III +
В	Лондон	1 +	IV +
Г	Амстердам	3 +	II +

45

Д	Рига	5	IV V
---	------	---	------

Задание 12. (6 баллов)

Перед Вами отрывки из учебника авторства известного советского историка с описаниями ряда исторических событий. Соотнесите каждый фрагмент с иллюстрацией описываемого в нём события. Обратите внимание – две иллюстрации являются лишними.

1. «...Простому народу выставили всё дело как восстание против иностранцев, против поляков, которые хотят будто бы поработить Россию, а на самом деле воспользовались восстанием для того, чтобы убить царя, который шёл против интересов богатых помещиков и капиталистов»;


2. «Никто из церковных людей и не подумал даже встать на защиту Никона, и оказалось, что какого-нибудь настоящего сопротивления власти царя никто оказать не мог. А царь, пользуясь своими торговыми связями и денежными средствами, без труда нанял других патриархов, восточных, которые в православной церкви были старше Никона, созвал церковный собор и решением самой церкви осудил человека, который осмелился поддерживать самостоятельность этой церкви против царя»;

3. «...Шведская армия была разбита так же основательно, как за девять лет перед этим московская армия под Нарвой. Роли совершенно переменялись. Из обороняющейся Москва превратилась в наступающую»;

4. «В Тушино переехал на жительство и сам второй Димитрий. Около него образовался целый двор наподобие московского двора. В Тушине возникла как бы вторая столица, и выбить оттуда казаков и их польские отряды Шуйский уже оказался не в силах»;

5. «...Медные деньги, которых вдобавок начеканили бесчисленное количество, стали быстро падать в цене, а все товары стали дорожать. Это опять вызвало народное возмущение, но романовское правительство оказалось достаточно сильным, чтобы и с ним справиться»;

6. «...После целого ряда войн Москва справилась с Новгородом, московский великий князь подчинил себе северные торговые центры (кроме Новгорода, крупное торговое значение приобрёл его «пригород» Псков), сделался там таким же хозяином, как и на берегах Москва-реки...».



А




Б


070812




А



Б



В



Г




Д




Е


Места захоронения:



1



2




3

Ответ:

Фото места	Название места	Правители (буквы)
1		Г Д
2		Е Ю
3		В А

об


57010



В




Г




Д



Е



Ж



З

Ответ:

Стрывок	1	2	3	4	5	6
Изображение (буква)	Ж -	Г -	З -	Д -	Е -	В -

об

Задание 13. (12 баллов)

Перед Вами портреты ряда российских царей и императоров и фотографии мест, где покоятся их останки. Укажите названия этих мест и соотнесите с ними портреты правителей, которые в них захоронены. Обратите внимание – под местом захоронения подразумевается не город, а конкретное сооружение или архитектурный комплекс.

Итого 378

Строчки: Мф Шмцуринца 13.4
 Дмш Шмцетин. Н.В.